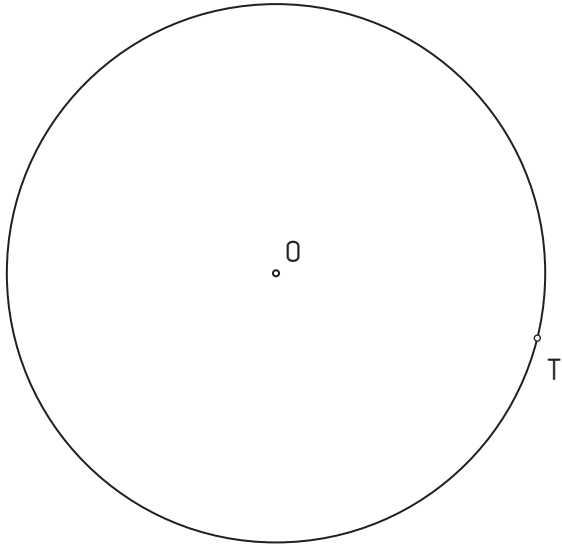
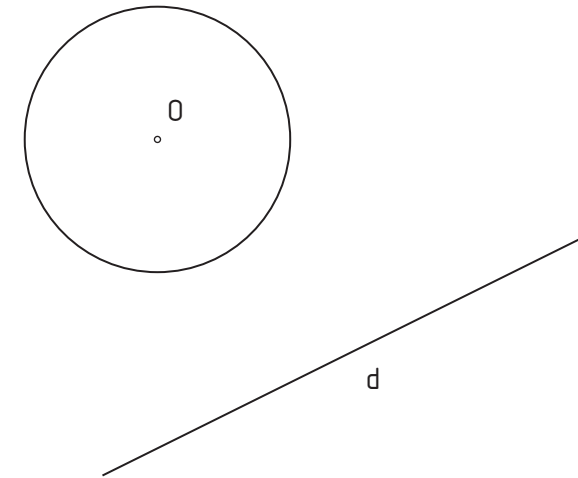



1.- Traza dos circunferencias de **radio 15 mm** tangentes a la dada en **T**.



2.- Dibuja dos rectas tangentes a la circunferencia dada paralelas a la dirección **d**.



3.- Trazar dos rectas tangentes a la circunferencia **O** desde el punto **P** exterior a ella.



4.- Dibuja **dos** circunferencias concéntricas y tangentes a las dos circunferencias de igual radio **O** y **O₁**, dado un punto de tangencia **T**.

