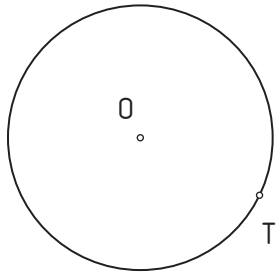



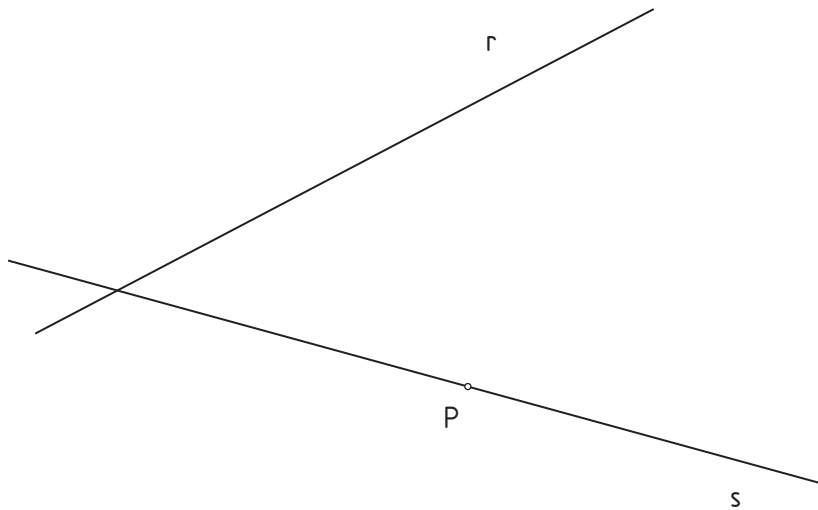
1.- Hallar la circunferencia tangente a la circunferencia O en el punto T y que pase por el punto P .



2.- Dibuja una circunferencia que pase por los puntos A, B y C.



3.- Traza la circunferencia tangente a las rectas r y s por el punto P .



4.- Dibuja la circunferencia de radio r tangente a las rectas dadas.

