
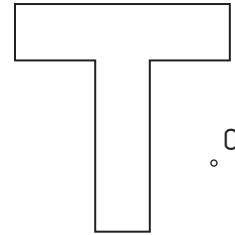


1.- Dado el centro de semejanza **O**, hacer la figura semejante de **razón 3/5**.

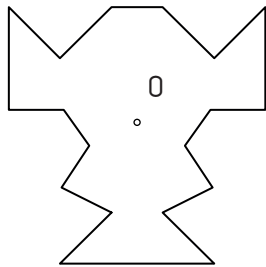


O

2.- Dado el centro de semejanza **O**, dibujar la figura semejante de **razón -2**.



3.- Dado el centro de semejanza **O**, dibujar la figura semejante de **razón 2**.



4.- Dado el triángulo **ABC**, dibuja un cuadrado inscrito en él con un lado perteneciente al lado **AB**, un vértice en **BC** y otro en **AC**.

