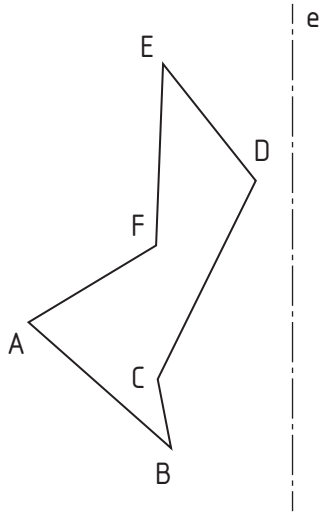
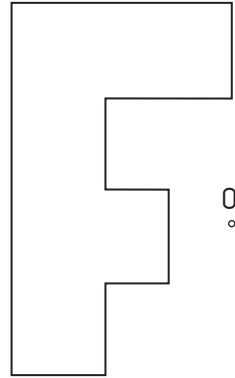


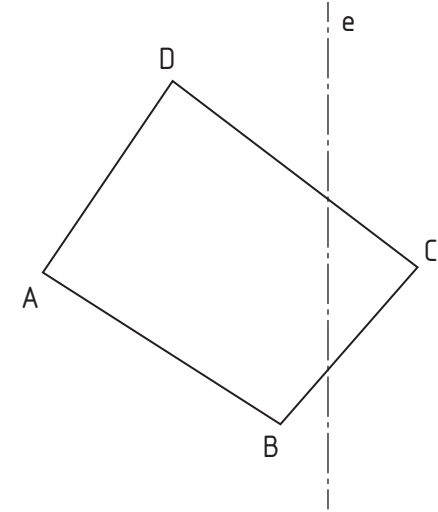
1.- Determinar la figura simétrica de la dada respecto al **eje e**.



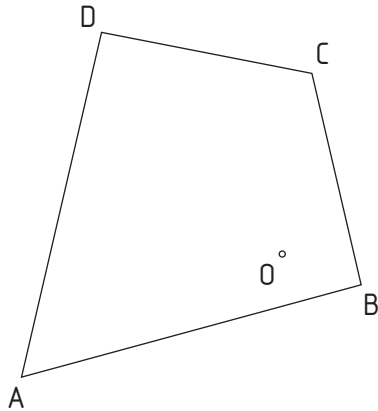
2.- Determinar la figura simétrica de la dada respecto al **centro O**.



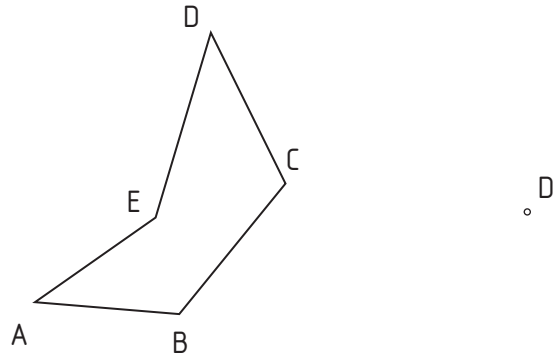
3.- Traza el cuadrilátero simétrico al dado respecto al **eje e**.



4.- Traza el cuadrilátero simétrico al dado respecto al **centro O**.



5.- Los puntos **D** y **D'** son simétricos. Halla el **eje** de simetría y dibuja la figura resultante.



6.- Los puntos **D** y **D'** son simétricos. Halla el **centro** de simetría y dibuja la figura resultante.

